
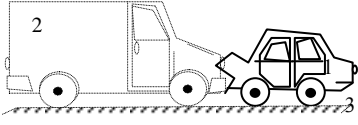


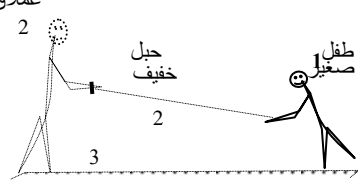
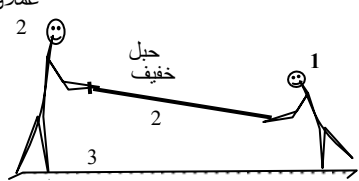

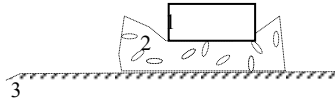
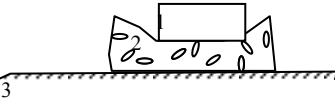










أرسم القوى الخارجية المطبقة على الجملة 2	أرسم القوى الخارجية المطبقة على الجملة 1	أرسم الفعلين المتبادلين بين 1 و 2
		<p>عربة [تتصادم بشاحنة 2]</p> 
<p>علاق 2</p> <p>طفل صغير 1</p> <p>حبل خفيف 2</p> 	<p>علاق 2</p> <p>طفل صغير 1</p> <p>حبل خفيف 2</p> 	<p>شخصان يشدان حبل خفيف</p> <p>علاق 2</p> <p>1</p> <p>حبل خفيف 2</p> 
		<p>قطعة حديدية [تضغط إسفنجية 2]</p> 
<p>1</p> <p>2</p> 	<p>1</p> <p>2</p> 	<p>سيارة ثنائية الدفع [في حالة انطلاق على طريق أفقي معبد 2]</p> <p>1</p> <p>2</p> 
<p>1</p> <p>2</p> 	<p>1</p> <p>2</p> 	<p>سيارة ثنائية الدفع [في حالة حركة بسرعة ثابتة على طريق أفقي معبد 2]</p> <p>1</p> <p>2</p> 
<p>1</p> <p>2</p> 	<p>1</p> <p>2</p> 	<p>سيارة ثنائية الدفع [في حالة كبح على طريق أفقي معبد 2]</p> <p>1</p> <p>2</p> 